




	Enoncé	Réponse	Jury
1	8×8	64	
2	La moitié de 32	16	
3	$(6 \times 1000) + (3 \times 10)$	$6000 + 30 = 6030$	
4	Complète.		
5	$27 - 9$	18	
6	$100 - 19$	81	
7	Ajoute un quart-heure à 2 h 50 min	3 h 05	
8	A quelle fraction de u correspond la partie grisée ? 	$\frac{3}{4}$	
9	12 feutres coûtent 6 €. Combien coûtent 6 feutres ?	$12 : 2 = 6€$	
10	Complète.	$77 - 27 = 50$	

	Enoncé	Réponse	Jury
11	Complète.	$10 \dots \times 2,3 = 23$	
12	Le chiffre des dixièmes de 58,41	4	
13	Combien faut-il de pièces de 10 centimes pour avoir 1,40 € ?	14	
14	Complète. $0,5 \times 6$	$6 : 2 = 3$	
15	27 élèves se mettent par groupe de 3. Combien y-a-t-il de groupes ?	$27 : 3 = 9$	
16	Complète.	$147 \text{ cm} = 1,47 \text{ m}$	
17	Le périmètre de ce triangle équilatéral est de 21 cm. Complète.	$21 : 3 = 7$ 	
18	Ecriture décimale de $6 + \frac{4}{100}$	$6 + 0,04 = 6,04$	
19	Dans 75 combien de fois 25 ?	$75 : 25 = 3$	
20	Entoure le plus grand nombre.	$1,2$ $\frac{4}{5} = 0,8$	

$\frac{4}{5} = 4 : 5 = 0,8$



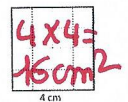
NOM: Mme Roché PRÉNOM: _____

CLASSE: CM2 A SCORE: ___ /30

- ✓ Durée : 9 minutes
- ✓ L'épreuve comporte 30 questions.
- ✓ L'usage de la calculatrice et du brouillon sont interdits.
- ✓ Il n'est pas permis d'écrire des calculs intermédiaires.

CORRIGÉ : 1 point par réponse juste.



	Enoncé	Réponse	Jury
21	$68 : 2$	34	
22	$68 : 4$	17	
23	Complète.		
24	Encadre 19,8 par deux entiers consécutifs.	$19 < 19,8 < 20$	
25	Ajoute 50 min à 2 h 48 min		
26	Complète.	$0,800 \text{ kg} = 800 \text{ g}$	
27	3 croissants coûtent 3,45 €. Combien coûte un croissant ?	$3,45 : 3 = 1,15€$	
28	Complète.	$750 \text{ mL} - 250 \text{ mL} = 500 \text{ mL} = 0,5 \text{ L}$	
29	Il faut 6 œufs pour faire des crêpes pour 2 personnes. Combien faut-il d'œufs pour 3 personnes ?	$6 : 2 = 3$ 3 œufs	
30	  Entoure la bonne réponse.	Ces deux figures ont la même aire VRAI ou FAUX	

CM2

JUIN

académie
Strasbourg

MINISTÈRE
DE L'ÉDUCATION NATIONALE
DE L'ENSEIGNEMENT SUPÉRIEUR
ET DE LA RECHERCHE

