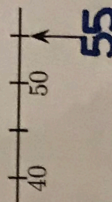
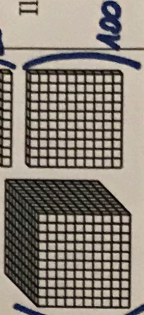
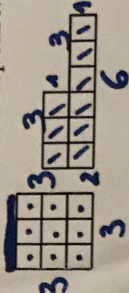



Énoncé	Réponse	JURY
1) $7 \times 3$	21	
2) Complète.	$49 = 7 \times 7$	
3) La moitié de 18	9	
4) $17 - 9$	8	
5) $22 + 19$	41	
6) Complète.	$45 + 15 = 60$	
7) Ajoute un quart d'heure à 1 h 45 min.	2 h 00 min ou 2h	
8) Complète.	 55	
9) 4 gommes pèsent 50 g.	8 gommes pèsent 10g.	
10) Combien y-a-t-il de dizaines en tout dans 234 ?	23 dizaines	

Énoncé	Réponse	JURY
11) Combien de centaines dans un millier ?	10. centaines 1000	
12) Complète.	$100 \times 10 = 1000$	
13) L'unité est le petit cube (□).  Il y a ... unités en tout.	1123 1000	
14) Au judo, il y a 10 garçons et 2 fois plus de filles. 20?	Il y a 30 enfants en tout.	
15) Complète.	$700 \text{ g} + 300 \text{ g} = 1 \text{ kg}$	
16) VRAI ou FAUX Cocher la bonne réponse.	Ces figures ont le même périmètre. <input type="checkbox"/> Vrai <input checked="" type="checkbox"/> Faux	$3+3+3+3 = 12$ $3+1+3+1+6+2 = 16$
17) 	Ces figures ont la même aire. <input checked="" type="checkbox"/> Vrai <input type="checkbox"/> Faux	9. 9.
18) Complète.	 0.2 60	
19) $12 \times 5$		
20) Entoure la réponse possible.	La hauteur d'une table est: 80 cm 80 m 80 km	