

## Corrigé du travail de jeudi 2 et vendredi 3 avril

Welches Datum haben wir heute ?

Heute ist **Donnerstag** den 2. April 2020.

Wie ist das Wetter heute ?

Heute die Sonne scheint, und es ist kalt.

Wie geht es dir ?

Mir geht es so lala.

Warum ?

Weil ich **schläfrig** bin.

### **Grammaire n°4 p.51:**

Un **feu de** bois éclairait la pièce. Le mot complété est un nom commun.

Les hommes **étaient assis** en cercle. Le mot complété est un verbe.

Le chef **parla** après un long silence. Le mot complété est un verbe.

Il fallait **partir à travers** bois. Le mot complété est un verbe à l'infinitif.

Le **manque de** nourriture était problématique. Le mot complété est un nom commun

### **n°9 p.51**

Compléments du verbe	Compléments du nom
sur les marchés	en osier
à côté des stands de poterie ( <i>de poterie est complément du nom stands</i> )	d'oliviers
Pendant l'été	d'olives est complément du nom
derrière les étalages	variétés (mais il n'était pas en gras)

### **Mesure :**

① baignoire	25 l	250 l	2500 l
seau	10 l	10 dl	100 l
bouteille	1,5 hl	1,5 l	5 dl
verre	1 l	30 cl	50 ml
③ 10 l =	1000 cl	30 l =	3000 cl
12 dl =	120 cl	7 dal =	7000 cl
9 hl =	90000 cl	895 dl =	8950 cl
65 l =	6500 cl	125 l =	12500 cl
* 0,8 ml =	0,08 cl	100 l =	100000 cl

$m^3$	hl	dal	l	dl	cl	ml
		1	0	0	0	
			1	2	0	
	9	0	0	0	0	
		6	5	0	0	
					0	8
		3	0	0	0	
		7	0	0	0	
		8	9	5	0	
	1	2	5	0	0	
1	0	0	0	0	0	

### Calcul mental jour n°3: (chronométré)

- |        |        |
|--------|--------|
| a) 88  | f) 32  |
| b) 480 | g) 50  |
| c) 19  | h) 64  |
| d) 67  | i) 33  |
| e) 21  | j) 170 |

Welches Datum haben wir heute ?

Heute ist **Freitag** den **3** . **April** 2020.

Wie ist das Wetter heute ?

Heute ist **wolkig**, und kalt.

Wie geht es dir ?

Mir geht es gut.

Warum ?

Weil ich **verliebt** bin.



**Mesure :**

- ②
- 40 dl = 4,0 = 4 l
  - 700 cl = 7,00 = 7 l
  - 8 hl = 800 l
  - 1271 dal = 12710 l
  - 478 hl = 47800 l
  - 13000 ml = 13,000 = 13 l

	m <sup>3</sup>	hl	dal	l	dl	cl	ml
				4,	0		
				7	0	0	
		8	0	0			
1	2	7	1	0			
4	7	8	0	0			
			1	3,	0	0	0

④ Il faut exprimer toutes les mesures dans la même unité.  
On choisit en général la plus petite.

- 12,3 hl + 7,5 hl + 12 dal  
= 123 dal + 75 dal + 12 dal = 210 dal
- 7 l + 41 l = 48 l
- 4 cl + 1,5 l + 2 ml = 40 ml + 1500 ml + 2 ml = 1542 ml
- 20 cl + 1,01 l = 20 cl + 101 cl = 121 cl
- 17,8 dal + 530 l = 178 l + 530 l = 708 l

### Lexique : N°12 p.143

recharger → rechargeable

diviser → divisible

prendre → prenable

attaquer → attaquant

lire → lisible

franchir → franchissable

respecter → respectable

rire → risible

nuire → nuisible

pratiquer → praticable

### Retrouve le radical à partir duquel sont formés les mots suivants :

*Il y a parfois des préfixes et des suffixes*

grisâtre → gris

elle désespérait → espérer

emprisonnée → prison

chemisier → chemise

étouffement → étouffer

grondement → gronder

transperça → percer

bicyclette → cycle

devanture → devant

pharmacien → pharmacie

### Allemand :

4 'S gibt so viel zu tun !

1 Alle sind zu Hause.

3 Alle sind zu Hause.

2 Was machen wir nun ?

**Alle bleiben zu Hause**

Alle sind zu Hause

Was machen wir nun?

Alle sind zu Hause

Es gibt so viel zu tun! (2x)

**Tout le monde reste à la maison**

Tout le monde est à la maison.


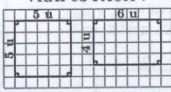


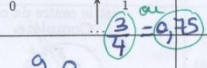
Que va-t-on faire maintenant?


Tout le monde est à la maison.

Il y a tellement de choses à faire.

**Calcul mental (course aux nombres) :**

	ÉNONCÉ	RÉPONSE	JURY
1)	$3 \times 6$	18	
2)	Complète.	$25 = 5 \times 5$ .	
3)	La moitié de 50	25	
4)	$200 - 99$	101	
5)	Complète.	$1 \text{ L} = 10 \text{ cL}$	
6)	Entoure la bonne réponse. $2,5 \times 10$	2,50    20,50    (25)	
7)	Enlève une demi-heure à 2 h 10 min.	1. h 40 min	
8)	Combien y a-t-il de milliers dans un million ?	1000	
9)	6 gommes identiques pèsent 42 g.	3. gommes pèsent 21 g.	
10)	Le quart de 100	25	

	ÉNONCÉ	RÉPONSE	JURY
11)	Complète.	$0,71 + 0,29 = 1$	
12)	$23 + 1,2 + 0,8$	25	
13)	L'unité est le petit cube. 	Il y a 1000 unités en tout. 1103 <i>il n'y a pas de dizaine.</i>	
14)	Complète.	$642 = 64 \text{ dizaines } 2 \text{ unités}$	
15)	Complète.	$13 \text{ mm} + 8 \text{ cm} = 9,3 \text{ cm}$	
16)	VRAI ou FAUX ? 	Ces figures ont le même périmètre. <input checked="" type="checkbox"/> Vrai <input type="checkbox"/> Faux	
17)		Ces figures ont la même aire. <input type="checkbox"/> Vrai <input checked="" type="checkbox"/> Faux	
18)	Complète.		
19)	Complète.		
20)	$18 \times 5$	90	

	ÉNONCÉ	RÉPONSE	JURY
21)	Tom achète 7 romans à 12 € et 3 BD à 12 €. Combien paiera-t-il ?	120 € <i>(7+3) x 12 = 24 x 5 = 120</i>	
22)	$(7 \times 12) + (3 \times 12)$	120	
23)	Entoure la réponse possible. <i>Compare avec toi pour avoir un nepepe</i>	Un camion pèse : 35 kg    (3500 kg)    35 dg	
24)	Entoure la réponse la plus précise. J'achète 150 petits pains à 0,95 € chacun.	Je paye environ : 15 €    100 €    (150 €)	
25)	Quel est le chiffre des unités de $58 \times 27$ ?	6	
26)	Un manège fait 2 tours en 30 s. Il fait 4 tours en 1 min.	<i>car 1 min = 2 x 30 s donc 2 x 2 = 4 tours</i>	
27)	$42 \div 6$	7	
28)	$\frac{1}{3}$ de 15 L	5. L <i>15 : 3 = 5</i>	
29)	Entoure (les réponses) possibles. Le maître veut répartir ses 35 élèves dans des groupes de même taille.	Il peut faire des groupes de : 2    3    (5)    (7)	
30)	A est le centre du cercle. Complète. 	Le périmètre du triangle ABC est égal à 6 cm. <i>2+2+2 = 3 x 2 = 6 cm</i>	

NOM : ..... PRÉNOM : .....

SCORE : /30

CLASSE : .....

- ✓ Durée : 9 minutes
- ✓ L'épreuve comporte 30 questions.
- ✓ L'usage de la calculatrice et du brouillon sont interdits. Il n'est pas permis d'écrire des calculs intermédiaires.

SUJET CM2 JUIN 2019

