

## Corrections programme 11 – Exercices de fin de semaine

### Calculs de durées

#### Exercice 8 p 124 APmaths

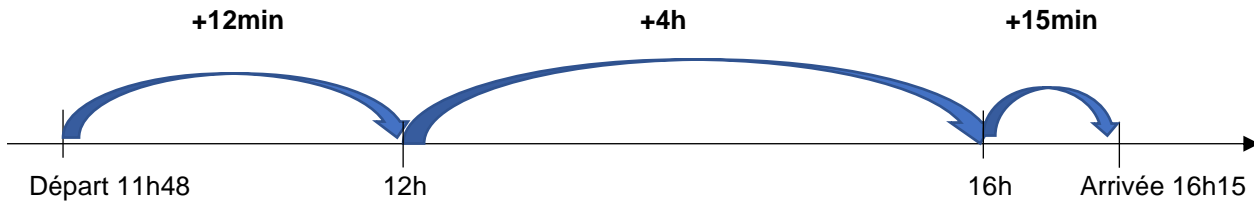
**A quelle heure Marie est-elle partie de chez elle ?**

Le train part de Brest à 11h48.

Marie est arrivée 10 minutes avant à la gare, donc à 11h38.

Elle est partie de chez elle 35 minutes avant 11h38 donc à **11h03**. (38 minutes – 35 minutes = 3 minutes).

**Quelle est la durée du voyage ?**



$$4h + 12min + 15min = 4h27min$$

La durée du voyage est **4h27 minutes**

**A quelle heure arrive-t-elle chez ses grands-parents ?**

Le train arrive à 16h15. Marie a encore 50 minutes de trajet.

$$16h15 + 45 \text{ min} = 17h$$

$$17h + 5 \text{ min} = 17h05$$

Marie arrive à **17h05** chez ses grands-parents.

#### Exercice 9 p 125 APmaths

Audric pourra aller à la pêche à Douarnenez à marée basse en 1<sup>ère</sup> partie de journée à 7h40.

Ce même jour, la marée sera de nouveau haute à 13h51.

$$7h40 + 6h = 13h40$$

$$13h40 + 11min = 13h51$$

$$6h + 11min = 6h11min$$

La marée met **6h11min** à remonter.

#### Exercice je travaille seul p 125 APmaths

a) Reproduis et complète le tableau.

	Heure de départ	Durée	Heure d'arrivée
Samir	15h05	25 min	15 h 30
Morgane	15 h 15	29 min	15 h 44
Maureen	15 h 28	22 min	15h50
Geoffray	15 h 34	26 min	16 h

$$\text{Samir : } 15h30 \text{ min} - 25 \text{ min} = 15h05$$

$$\text{Morgane : } 15h15 \text{ min} + 29 \text{ min} = 15h44 \text{ ou } 15h44 \text{ min} - 15h15 \text{ min} = 29 \text{ min}$$

$$\text{Maureen : } 15h28 \text{ min} + 22 \text{ min} = 15h50$$

$$\text{Geoffray : } 15h34 \text{ min} + 26 \text{ min} = 16h$$

## Géométrie

### Exercice n° 5 p170 APmaths

Trace un carré de 6 cm de côté.

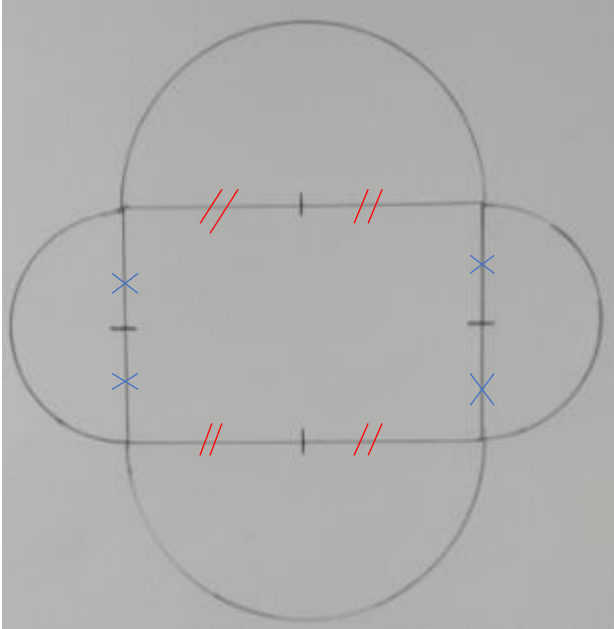
Place les milieux de chaque côté du carré. Nomme ces points A, B, C et D.

Trace le carré ABCD.

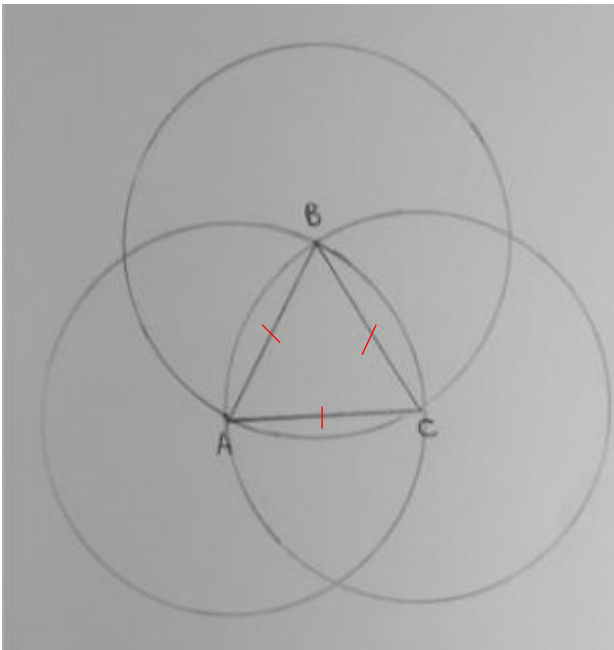
Trace les diagonales du carré ABCD. Nomme O le point d'intersection des diagonales.

Trace le cercle de centre O et passant par les points A, B, C et D.

### Exercice n° 8 p171 APmaths



### Exercice Je travaille seul p 171 APmaths



## **Littérature Enquêtes Lafouine**

### **Enquête 18 : Maxime a la tête dure**

C'est le gardien qui a assommé Maxime et volé le contenu du coffre.

Si la secrétaire avait assommé Maxime, il l'aurait reconnue à son parfum très fort.

Rodolphe avec son bras et sa jambe dans le plâtre ne peut pas bouger.

La femme de m'énage est petite et assez âgée, il aurait été donc difficile pour elle de frapper Maxime sur le haut de la tête.

### **Enquête 5 : Le faux cambriolage**

L'indice est le suivant : Si le cambrioleur avait cassé la vitre, les morceaux de verre cassés seraient à l'intérieur du salon et non à l'extérieur sur la terrasse (cela montre bien que Daphné a cassé la vitre de l'intérieur de la maison).

### **Histoire**

Fiche Correction Histoire S11

### **EMC**

Fiche Correction EMC Le parlement

### **Vocabulaire**

Fiche Correction Les Homophones S11

### **Conjugaison**

Fiche correction Mots alignés S11